

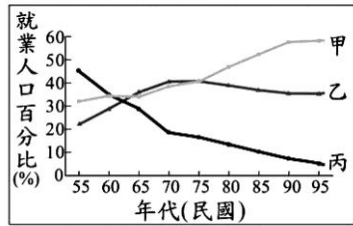
# 99 第一次國民中學基本學力測驗 社會科題本

班級：\_\_\_\_\_ 座號：\_\_\_\_\_ 姓名：\_\_\_\_\_

## 一、單題：(1~54 題)

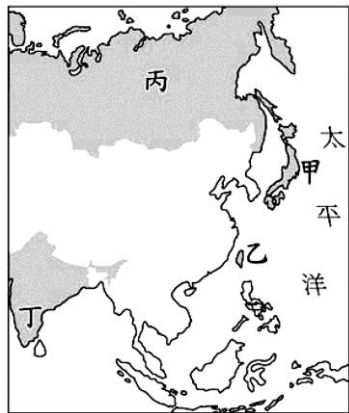
- (B) 1. 1990 到 2008 年期間，北韓在「全球飢餓指數」惡化的排名中位居第二。造成北韓糧產不足，常有饑荒的問題，除了政治制度的影響外，與下列何項自然因素關係最密切？
- (A) 颱風侵襲次數多  
(B) 生長季短，平原少  
(C) 火山活動與地震頻繁  
(D) 年雨量少於 500 毫米

- (D) 2. 小芳看到爺爺種的水蜜桃滯銷，所以她利用網路來銷售這些水蜜桃。圖(一)是臺灣三級產業就業人口百分比的變遷圖，根據上文描述，他們所從事的經濟活動，分別屬於國中的哪一條線？



圖(一)

- (A) 小芳：甲；爺爺：乙  
(B) 小芳：乙；爺爺：丙  
(C) 小芳：乙；爺爺：甲  
(D) 小芳：甲；爺爺：丙
- (D) 3. 根據世界人口基金會於 2006 年的統計，全球平均每秒增加 2.6 人，每年增加超過 8,000 萬人。不過，各地人口成長的速度相當不平均，目前增加最快的地區，絕大多數位在平均國民所得偏低的開發中國家。依照上述統計資料，圖(二)中的甲、乙、丙、丁何者是屬於這種類型的國家？



圖(二)

- (A) 甲 (B) 乙  
(C) 丙 (D) 丁
- (B) 4. 從 1980 年代至今，臺北地區大量開發山坡地，盆地周圍的山坡地已有相當大的面積被密集的住宅社區、工廠所盤據。原本受到各種植被保護的山坡地，由於開發而改變了原始的地表型態，影響土壤涵養水源的功能。上述開發最可能導致臺北盆地發生下列哪一種現象？
- (A) 地層下陷趨緩 (B) 淹水的頻率增加  
(C) 地下水含量增加 (D) 河川流量較穩定
- (D) 5. 「位在非洲森林裡的揚加人部落，其生活方式非常原始，當他們的生產活動造成土地肥力耗竭，致使食物供應大減時，便將該地棄置，再尋找另一塊林地生活。」上文主要是在描寫該部落的何種生活方式？
- (A) 林木加工業  
(B) 逐水草而居  
(C) 採集與狩獵  
(D) 粗放的游耕

- (B) 6. 曉娟到圖書館借了一本書，此書包含「人文主義運動」、「方言文學」、「天才藝術家」、「英法兩國王權的發展」四個章節。從這些章節判斷，此書最可能是下列何者？

- (A) 《第三世界》  
(B) 《文藝復興時代》  
(C) 《羅馬帝國興亡史》  
(D) 《歐洲封建制度的建立》
- (A) 7. 鄭成功攻取臺灣後，認為當時興邦固國的主要難題在於需要大量的糧食，但投入生產的人卻不夠多，因而採取下列何種方式解決此一困境？
- (A) 分派軍隊屯墾各地  
(B) 管制外來人口移入  
(C) 成立郊商運送貨物  
(D) 設市舶司管理貿易
- (D) 8. 「國家是否富強，關鍵在於國君能否掌控權力；若國君能掌握權力、決定一切，就能產生治國的威信。國君擁有威信，人民相信他會論功行賞，就會努力爭取表現，國君便能成功治理國家；人民相信他會懲罰惡行，就不會去做姦邪之事。」這段文字應是闡述下列一家學說的理念？

- (A) 儒家  
(B) 道家  
(C) 墨家  
(D) 法家
- (C) 9. 瑋莉參觀歷史博物館的特展，場中主要展出唐景崧、劉永福等人的畫像、丘逢甲的詩詞及臺灣民主國的國旗等展覽品，這項特展的主題與下列哪一條約的簽訂最有關係？

- (A) 《南京條約》  
(B) 《天津條約》  
(C) 《馬關條約》  
(D) 《辛丑和約》
- (D) 10. 對於中國史上某朝代後期的商貿情況，歷史書中有以下描述：「部分商人在中國沿海從事貿易活動，運送絲綢、茶葉等貨品到呂宋等地販售，以賺取白銀。運貨途中，他們得冒著遭海盜劫掠的風險，有時因為違反禁令，也須躲避官府的查緝。」此一朝代最可能是下列何者？

- (A) 唐代  
(B) 宋代  
(C) 元代  
(D) 明代

呂宋：今菲律賓。

- (B) 11. 十九世紀初，歐洲列強曾在奧國首相梅特涅主導下，召開維也納會議，下列何者是召開此次會議的主要原因？
- (A) 工業革命之後市民階級崛起，要求政治參與權  
(B) 拿破崙勢力瓦解，各國討論如何重建國際秩序  
(C) 社會主義盛行，各國擔憂革命分子擾亂社會安定  
(D) 美國獨立革命爆發，各國預防革命危害皇室安全

(D) 12. 隨著科技的發展，使得過去無法達成的事情，現在可以透過科技來完成。例如：忙於工作的父母，可以透過視訊的傳送，即時看到兒女在幼稚園上課的情形。上述內容主要是關於一種層次的社會變遷？

- (A) 社會制度
- (B) 倫理道德
- (C) 價值觀念
- (D) 器物生活


(A) 13. 地方自治是指地方上的人民，在國家監督之下，依據法令或基於授權，自行組織自治團體，以處理地方上的公共事務。根據上述說明判斷，下列何者屬於地方自治的事項？

- (A) 辦理縣市議員的罷免事宜
- (B) 決定與他國建立邦交關係
- (C) 增加立法委員應當選名額
- (D) 更改國防武器購買的種類

(B) 14. 新聞報導：「過年時節，年貨大街上的商家為吸引人潮而使出渾解數，其中某一店家老闆僱用朋友的十二歲雙胞胎女兒，利用她們叫賣商品時的可愛模樣來招攬顧客。」若店家老闆因上述行為而受罰，他最可能是違反下列一種法律？

- (A) 《公平交易法》
- (B) 《勞動基準法》
- (C) 《消費者保護法》
- (D) 《少年事件處理法》

(A) 15. 小瑩引用圖(三)的漫畫來說明某一研究主題，根據內容判斷，她最可能是在探討下列哪一種概念？



圖(三)

- (A) 外部效果
- (B) 比較利益
- (C) 受益原則
- (D) 生產要素

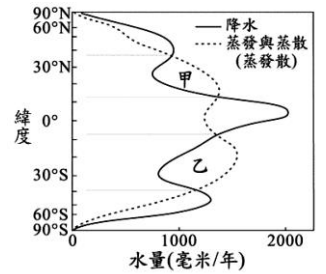
(C) 16. 《刑法》中的普通傷害、侵入住居等罪，由於其行為侵害個人權益，並未影響社會公益，故屬「告訴乃論」之罪。對於上述罪行，下列何者有權決定是否要提出告訴？

- (A) 法官
- (B) 警察
- (C) 被害人
- (D) 檢察官

(B) 17. 民主國家必須依法行政，政府如果沒有法律根據，便不能任意增加人民的負擔或是限制人民的基本自由權利，否則人民就可針對該事項尋求法律的救濟。上述內容最能展現民主政治的一種特色？

- (A) 民意政治
- (B) 法治政治
- (C) 責任政治
- (D) 政黨政治

(C) 18. 圖(四)為全球各緯度降水量與蒸發散量的變化情形。當一地的蒸發散量小於降水量時為「剩水區」，反之則為「缺水區」。圖中甲、乙二區塊所代表的水文現象，主要是受下列何者的影響？



圖(四)

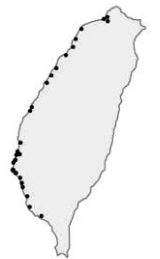
- (A) 位寒、暖流交會處
- (B) 為西風帶的背風側
- (C) 副熱帶高氣壓籠罩
- (D) 日照強且對流旺盛

(B) 19. 1990 年代初期，臺灣某廠商為開拓海外市場，決定在中國設置生產據點，但該廠並沒有選擇零組件供應商聚集且勞工便宜的華南地區，反而在華中地區的江蘇 昆山設廠，以方便外銷到世界其他國家，同時又可兼顧中國龐大的內銷市場。上述廠商設廠於該地最可能具有下列何項優勢？

腹地：貨物集散所及之處。

- (A) 位居中國領土的中心
- (B) 交通便利，腹地廣大
- (C) 與臺灣之間的距離最短
- (D) 鄰近中國最大經濟特區

(A) 20. 圖(五)是臺灣沿海地區某種天然植被的分布圖，根據其分布位置判斷，該天然植被生長的地理環境為何？



圖(五)

- (A) 泥質的灘地
- (B) 多岬角灣澳
- (C) 珊瑚礁地形
- (D) 陡峭的海岸

(B) 21. 「這條線對我而言，已經不是遙不可及的抽象概念，而是一條真真切切踩在我腳底下的疆界……，好像越過了這一條線後，連太陽也可以放肆地占有二十四個小時，不留給黑夜任何一秒鐘。」根據上文的描述來推測，「這條線」最可能是下列何者？

- (A) 赤道
- (B) 北極圈
- (C) 南回歸線
- (D) 本初子午線

(C) 22. 「距今約 6,500 萬至 250 萬年前，因為板塊碰撞擠壓，這裡隆起許多新褶曲山脈，部分沿海山地有厚層的石灰岩，受到溶蝕作用出現崎嶇的地形，嚴重影響當地的農業與交通發展。」上述自然景觀，最可能出現在圖(六)中的甲、乙、丙、丁哪一地區？



圖(六)

- (A) 甲
- (B) 乙
- (C) 丙
- (D) 丁



- (D) 23. 宋代學者程頤曾上書宋仁宗，提到：「國家財政入不敷出，又需維持百萬軍隊，加上強敵環伺，我為此深感憂慮。」程頤的憂慮，顯現出宋代自開國以來面臨下列哪一種問題？  
 (A) 廣築運河導致民窮財盡  
 (B) 地方分權造成藩鎮割據  
 (C) 商業不振以致稅收短少  
 (D) 外族威脅致使國勢衰頹
- (B) 24. 在西方歷史中，有一段時期被史家稱為「羅馬和平」，這段時期是以下列何者作為開端？  
 (A) 凱撒遠征邊族，消危害羅馬政權的勢力  
 (B) 屋大維即位，掌握大權重建政治社會秩序  
 (C) 君士坦丁將基督教合法化，解除宗教衝突  
 (D) 查士丁尼頒布新法典，革除民間傳陋習
- (D) 25. 有一部電影劇情如下：「祥子回到故鄉，那裡充斥著『破四舊、立四新』的標語，他看到村長被畫分為『地主』階級而遭受殘酷的公審。後來，祥子的妻子難產，醫院裡的醫生們卻已在『打倒學術權威』的口號下被迫離開……。」這部電影的時空背景最可能是下列何者？  
 (A) 國共內戰下的臺灣  
 (B) 軍閥混戰時期的華北  
 (C) 滿洲國成立後的東北  
 (D) 文化大革命時期的中國
- (C) 26. 某國大使曾針對時局提出以下看法：「有那麼一天，塞爾維亞會引起歐洲的紛爭，……這國家受俄羅斯鼓動，令奧匈帝國頭痛。照現在這種危機持續下去，歐洲若能避開一場戰事，真的得靠上天保佑了。」後來歐洲還是因為塞國而發生了一場戰爭，這場戰爭最可能是下列何者？  
 (A) 普法戰爭  
 (B) 英法百年戰爭  
 (C) 第一次世界大戰  
 (D) 第二次世界大戰

- (A) 27. 表(一)是二十世紀初臺灣稻米生產量的統計資料。下列何者是造成表中「甲」時段期間稻米產量變化的主要因素之一？

表(一)

| 年度   | 稻米生產量(萬公石) |
|------|------------|
| 1910 | 755        |
| 1920 | 873        |
| 1930 | 1,329      |
| 1938 | 1,770      |

- (A) 臺灣蓬萊米培植成功  
 (B) 「皇民化運動」的影響  
 (C) 臺灣開港，刺激稻米外銷  
 (D) 耕者有其田政策徹底落實

- (C) 28. 表(二)是勝偉以甲國國會審議某法案為例，分析議員在接受遊說前後，對於法案態度的變化。根據內容判斷，下列何最可能是他的觀點？

表(二)

| 調查時間      | 進行遊說前 | 進行遊說後 |
|-----------|-------|-------|
| 支持法案的議員比例 | 10%   | 60%   |
| 反對法案的議員比例 | 10%   | 30%   |
| 未表態的議員比例  | 80%   | 10%   |

- (A) 該國政黨體制屬多黨制  
 (B) 立法與行政部門相制衡  
 (C) 利益團體影響政策制定  
 (D) 遊說對於決策沒有影響

- (B) 29. 「承翰駕車通過高速公路收費站時，無需停車繳費，由電子儀器直接接收車上發出的訊號，而通行費則從他的預付帳戶中扣除，但也同時將他的行蹤留存在電腦檔案資料中。」上述內容最可能在討論上列哪一項議題？  
 (A) 供給與需求的平衡  
 (B) 科技與隱私的兩難  
 (C) 車速與安全的衝擊  
 (D) 租稅與經濟的發展

- (C) 30. 求職中的蓉蓉得到四個工作機會，她將這些工作的薪水加以比較後整理成表(三)。根據表中資訊判斷，霹靂光電的薪水及其機成本各是幾元？

表(三)

| 公司名稱 | 薪水(元)  | 機會成本(元) |
|------|--------|---------|
| 米奇科技 | 28,000 | 35,000  |
| 聯合公司 | 33,000 | 35,000  |
| 風城電子 | 30,000 | 35,000  |
| 霹靂光電 | ?      | ?       |

- (A) 薪水 33,000、機會成本 28,000  
 (B) 薪水 33,000、機會成本 35,000  
 (C) 薪水 35,000、機會成本 33,000  
 (D) 薪水 35,000、機會成本 30,000

- (D) 31. 某國受風災影響，有些種類的蔬菜產量減少導致價格飆漲，故該國政府採取右列措施以調節菜價，其中何者最可能是為了直接影響需求層面而提出的對策？

甲：增加國外進口蔬菜的數量  
 乙：相關單位釋出庫存的蔬菜  
 丙：獎勵農民儘速復耕農作  
 丁：呼籲民眾改吃其他蔬菜

- (A) 甲  
 (B) 乙  
 (C) 丙  
 (D) 丁

- (B) 32. 右列是小聞在書上看到有關誹謗罪的內容。這種規範是基於保護他人名譽，而對《憲法》中的一項人民基本權利有所限制？

誹謗罪是指意圖以文字、言詞或圖畫等方式，向眾人指出或宣傳、轉述足以毀損他人名譽之事者。例如：某甲向大家謊稱某乙偷竊他人的財物。

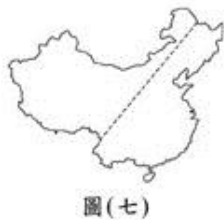
表現自由 = 意見自由

- (A) 人身自由  
 (B) 表現自由  
 (C) 集會結社自由  
 (D) 社密通訊自由

- (C) 33. 筱筠撰寫一篇有關中國某區域文化特色的報告，部分內容寫道：「該地交通運輸主要靠陸路，不僅絕對高度可達 3,000 公尺，道路起伏也大。其中還有多的『單邊路』，一邊緊貼著直插雲天的懸崖峭壁，另一邊瀕臨刀劈斧削般的深澗。這樣的條件下，要長途運送必須依賴馬匹，故有獨特的『馬幫文化』。該報告的主題最可能是下列何者？」  
 (A) 江蘇鹽商  
 (B) 福建茶商  
 (C) 雲南商隊  
 (D) 蒙古馱運

- (A) 34. 中國因疆域遼闊，自然與人文景觀皆呈現多樣變化。表(四)中的甲、乙、丙、丁是根據不同的分類方式所畫分的四條分界線，其中何者的位置與圖(七)中的虛線最不相符？

| 代號 | 項目             |
|----|----------------|
| 甲  | 東部經濟帶與中部經濟帶分界線 |
| 乙  | 人口稠密區與人口稀疏區分界線 |
| 丙  | 傳統農作區與傳統畜牧區分界線 |
| 丁  | 季風氣候區與其他氣候區分界線 |



圖(七)

- (A) 35. 許多地名與當地自然或人文環境有密切關係，阿力前往澳洲「努拉波」考察，發現此地名是依當地的自然特色命名。圖(八)是澳洲各種氣候類型的分布，根據努拉波的位置判斷，此地名原義最接近下列何者？



圖(八)

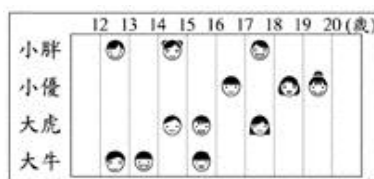
- (B) 36. 丹廷寫一篇歷史報告，結語如下：

總而言之，這個朝代是中國最具世界主義色彩的朝代。政治上，皇帝因打敗強敵東突厥，曾被周邊民族尊為國際盟主；社會上，……；宗教上，因對自己的文化具有自信與安全感，對信仰自由給予保障，許多宗教傳入，是一段充滿光輝的時期。

文中「……」部分，最適合填入下列一段敘述？

- (A) 朝廷宣揚漢人文化，積極推行各種改革措施，如斷北語、通婚姻  
 (B) 朝廷對於各種族一視同仁，許多留學生與外國人前來學習、定居  
 (C) 朝廷為了方便管理，將人民區分為四個不同階級，訂定各種規範  
 (D) 朝廷有感於西方國家科技先進產業發達，禮聘外國人士來華指導
- (C) 37. 「當時，一群有相同血緣關係的同姓者，為求聯誼團結，以他們第一代來臺的祖先或其後代為祭祀對象，並由祖產中提撥部分資產做為祭祀費用。」上述文字最有助於我們了解下列哪一主題？  
 (A) 平埔族群的祭典儀式  
 (B) 荷蘭統治下的新教規範  
 (C) 清朝統治時期的宗族組織  
 (D) 日本統治時期的神社信仰

- (C) 38. 小胖、小優、大虎、大生各自在網路上認識了幾個網友，圖(九)是他們的網友年齡分布狀況。根據圖



圖(九)

中內容判斷，下列何者的朋友們，其年齡皆在「觸犯《刑法》時，雖會受《刑法》處罰但可減輕其刑」的範圍內？

- (A) 小胖 (B) 小優  
 (C) 大虎 (D) 大生

- (A) 39. 圖(十)是某個政論節目的部分內容，根據圖中的談話內容判斷，該位來賓欲提案彈劾的對象最可能是下列何者？



圖(十)

- (A) 總統 (B) 行政院院長  
 (C) 立法院院長 (D) 直轄市市長
- (A) 40. 在臺灣，有毛巾業者為了增加競爭力，把毛巾摺成蛋糕形狀，成為廣受歡迎的禮盒；也有部分果農將水果製成果醬、果酒、果醋等產品銷售，以因應外國農產品的低價競爭。上述這些作法，主要是要達到下列何項目的？  
 (A) 提高附加價值  
 (B) 降低生產成本  
 (C) 縮小城鄉差距  
 (D) 減少運輸里程
- (D) 41. 小丁：「我發現愈來愈多人習慣在跨國連鎖速食店用餐，所以傳統餐飲業的生意大受影響。」  
 阿望：「對呀！我也發現行銷全球的某品牌牛仔褲，在世界各地熱賣，並改變流行的風潮。」  
 根據上述二人的對話，他們最可能是在討論全球化所造成的何種衝擊？

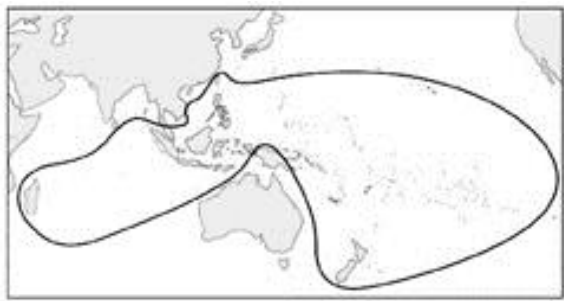
- (A) 行銷費用的降低  
 (B) 區域統合的趨勢  
 (C) 國際貿易的衰退  
 (D) 強勢文化的擴展
- (A) 42. 「一開始，君王只是為了方便，任用議會中多數黨的領袖為主管行政的大臣；十八世紀以後，這樣的任用作法逐漸成為慣例，甚至原屬於國王的組閣、解散議會等權力，也轉移到多數黨領袖手中。」上述行政權力的轉移過程，最早出現在下列哪一國家？  
 (A) 英國  
 (B) 美國  
 (C) 德國  
 (D) 法國

- (A) 43. 清末，列強曾在中國取得租界，且獲有領事裁判權，各國在其租界內便享有自主的司法、經濟與行政等權利，清廷無法以法律規範這些外國人士。根據上述內容，下列哪一項敘述最符合其意涵？  
 (A) 國家主權的行使受到破壞  
 (B) 司法權與行政權相互制衡  
 (C) 畫定租界推廣中西文化的交流  
 (D) 經濟發展受到國際組織的限制

- (D) 44. 社會化是指個人透過家庭、學校、大眾傳播等途徑，以形成人格和學習社會規範的終身歷程。它有助於個人扮演合宜的社會角色，同時也延續社會整體的價值觀。依上述內容判斷，下列何者最可能是社會化所產生的結果？  
 (A) 老年人口比例的增加  
 (B) 發明防火防震的建材  
 (C) 地表自然景觀的改變  
 (D) 遵守選舉活動的法規



- (B) 45. 「日本近年來出現一種『漁師體驗』活動，遊客除了可跟漁夫一同出海捕魚外，也可以到海邊挖珍珠、享用生魚片。每年3月到9月，長崎 平戶這個漁港常有許多來此當『一日漁夫』的觀光客。」上述活動最適合作為說明下列何者的實例？
- (A)環境的永續經營  
(B)休閒農業的興起  
(C)精緻農業的推廣  
(D)商業性農業崛起
- (C) 46. 「共產主義」不贊同財產私有制，主張財富不該集中在少數人手中，應為所有人共有。在歷史上，下列何者也有類似的概念？
- (A)唐代的「坊市制度」  
(B)明代的「一條鞭法」  
(C)太平天國的「聖庫」制度  
(D)臺灣的「三七五減租」政策
- (C) 47. 「探險家巴布亞在 1513 年找到大西洋與太平洋之間的地峽。幾年後，西班牙人在此地峽建立殖民地，而掠取自南美洲西岸的金、銀礦產得以利用此地峽運至大西洋岸，送回歐洲。」文中所指的殖民地，應位於現今何國境內？
- (A)巴西 (B)土耳其  
(C)巴拿馬 (D)新加坡
- (A) 48. 圖(十一)是安達看到的一幅圖，若要給這幅圖一個圖名，下列何者最適合？



圖(十一)

- (A)南島語族分布圖  
(B)全球雨林殘存區域圖  
(C)臺灣農產品進口區域圖  
(D)亞太經濟合作會議會員分布圖
- (D) 49. 聯合國為增進青少年對世界議題的關心，於聯合國總部舉辦「聯合國學生模擬會議」，小同為臺灣的代表，他應該前往圖(十二)中的哪一個城市參加會議？



圖(十二)

- (A)甲 (B)乙  
(C)丙 (D)丁
- (C) 50. 1970 年代初期，中東爆發戰爭，沙烏地阿拉伯領導主要石油輸出國發動石油禁運，報復支持以色列的西方國家，石油價格因此在短期內大漲，造成全球性的經濟危機。當時臺灣推動下列哪一項措施，降低了此危機對國內經濟的衝擊？
- (A)加入國際組織  
(B)設立科學園區  
(C)實施十大建設  
(D)推行土地改革

- (D) 51. 表(五)為我國部分年度的政府統計數據。根據表中內容判斷，下列何者最可能是造成表中數據大幅變化的共同原因？

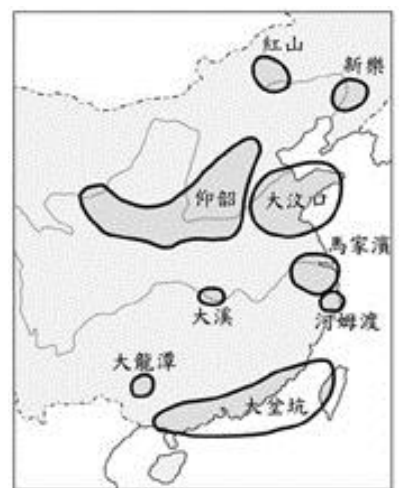
表(五)

| 年別<br>(西元) | 國小畢業生<br>升學率(%) | 國中學生<br>人數(人) |
|------------|-----------------|---------------|
| 1956       | 47.75           | 133,687       |
| 1961       | 53.79           | 252,107       |
| 1966       | 59.04           | 456,090       |
| 1971       | 80.85           | 847,660       |

- (A)提供多元入學管道  
(B)鼓勵增加生育數量  
(C)培養終身學習觀念  
(D)延長義務教育年限
- (B) 52. 右列為修明所看到的一篇報導，若僅根據報導內容判斷，下列何者為影響甲國產業外移至乙國的主要原因？

甲國長期因人口呈現負成長，導致市場逐漸縮小，於是該國的製造業、服務業，逐漸將投資重心，由國內移往人口和經濟呈現穩定成長的乙國，因為那裡才有市場成長的潛力。

- (A)人力成本  
(B)消費需求  
(C)生產技術  
(D)勞工素質
- (D) 53. 「高齡化社會」通常出現在經濟發展程度高的國家，如日本、瑞典。但中國卻在 2000 年達到高齡化社會的標準，其成因可能與下列何者最有關係？
- (A)國民所得的金額逐年增加  
(B)勞動力大量流入鄰近國家  
(C)社會資源多偏向老人福利  
(D)實行嚴厲的計畫生育政策
- (A) 54. 圖(十三)標示出中國新石器時代文化的分布情況，若李教授計畫到洛陽附近進行當地的新石器文化研究，依圖中內容判斷，他最可能是要研究下列哪一文化？



圖(十三)

二、題組：(55~63 題)

閱讀下列選文，回答第 55 至 57 題

近年臺灣的自行車產業蓬勃發展，加上政府將地方的自然資源與自行車運動結合，使得搭配自行車外出旅遊的人數增多，也活絡了各地的觀光產業。例如：某地方政府曾規畫自行車比賽路線，途中可見到許多火山地形，配合當地的地熱資源，自行車騎士還能順道泡溫泉，洗去途中的疲憊。至於自行車數量大增所可能衍生的隨處停車、逆向行駛等交通違規問題，政府則必須以相關行政法規來加以規範。

- (C) 55. 根據上文判斷，自行車及其周邊產業的蓬勃發展最可能會產生下列哪一種效果？  
 (A)減緩人口老化 (B)降低旅館數量  
 (C)提供就業機會 (D)提高運輸效率
- (D) 56. 上述自行車比賽路線沿途的景觀，最可能出現在下列哪一個國家公園？  
 (A)金門國家公園 (B)墾丁國家公園  
 (C)太魯閣國家公園 (D)陽明山國家公園
- (A) 57. 根據上文判斷，政府最可能是以下列何種手段，處理自行車數量大增所可能衍生的交通違規問題？  
 (A)處以罰鍰 (B)處以罰金  
 (C)判處有期徒刑 (D)要求損害賠償

閱讀下列選文，回答第 58 至 60 題

1993 年，登山家摩頓森攀登位於巴基斯坦及中國邊境的世界第二高峰 K2，結果失敗。他在回程途中誤入一個偏僻的小村莊科爾飛，因受到村民的悉心照顧而心存感激。他在這個穆斯林村莊裡，看到孩童因缺乏教育設施，在寒風中練字讀書，決心為他們蓋一所學校。回美國後，他勤儉儲蓄並四處募款，備極艱辛，終於達成心願。後來他更擔任中亞協會的會長，持續募款，與當地宗教領袖及居民合作興學，截至 2008 年為止，替巴基斯坦、阿富汗等地偏遠村莊的孩子們蓋了 70 餘間的學校，為這些貧窮動亂地區的孩子提供受教機會。

- (B) 58. 文中主角登山、迷途與建校之處，最可能是在圖(十四)中的甲、乙、丙、丁哪一地區？  
 (A)甲 (B)乙  
 (C)丙 (D)丁



圖(十四)

- (C) 59. 下列何者最有可能出現在科爾飛村村民的宗教生活中？  
 (A)平日靜坐禪修，期望經由苦行，超脫輪迴  
 (B)週末假日固定上教堂，讀《聖經》、做禮拜  
 (C)遵奉《古蘭經》，每日定時向聖地方向朝拜  
 (D)到寺廟膜拜神像，相信經由奉獻能獲得庇佑

- (C) 60. 若依我國《人民團體法》的規定區分，文中提到的「中亞協會」最可能屬於下列哪一性質的團體？  
 (A)政治團體 (B)職業團體  
 (C)社會團體 (D)經濟團體

關讀表(六)，回答第 61 至 63 題：

表(六)

| 項目   | 甲河川                               | 乙河川                              |
|------|-----------------------------------|----------------------------------|
| 名稱由來 | 因含沙量大，溪水混濁。                       | 原義是「河谷」、「大河」。                    |
| 特色   | 臺灣第一長河。                           | 世界第一長河。                          |
| 流向   | 自東向西流，注入臺灣海峽。                     | 自南向北流，注入地中海。                     |
| 貢獻   | 雨季時，洪氾帶來的泥沙孕育出豐饒的彰化平原，使之成為臺灣重要穀倉。 | 受上游熱帶莽原氣候影響，造成下游定期氾濫，發展出傲人的農業文明。 |
| 面臨問題 | 河口附近的泥沙量減少。                       | 河口附近的三角洲面積縮小。                    |

- (A) 61. 依表中敘述判斷，乙河川位於下列何處？  
 (A)北非 (B)南美  
 (C)南歐 (D)東亞
- (A) 62. 依表中敘述判斷，甲、乙二條河川主要的氾濫季節為何？  
 (A)皆為夏季 (B)皆為冬季  
 (C)甲河在夏季，乙河在冬季 (D)甲河在冬季，乙河在夏季
- (C) 63. 由表中敘述可知，甲、乙二條河川面臨相似的問題，下列何者最可能是造成這些問題的共同原因？  
 (A)上游地區遭受過度墾伐  
 (B)漁民大量捕撈河中魚蝦  
 (C)河川中、上游建築水壩  
 (D)廢棄汙水直接排至河中